

MIRANDO LA TORRE

Pregunta 1

M833Q01

En las Figuras 1 y 2 de abajo se ven dos dibujos de la **misma** torre. En la Figura 1 se ven **tres** caras del tejado de la torre. En la Figura 2 se ven **cuatro** caras.

Figura 1



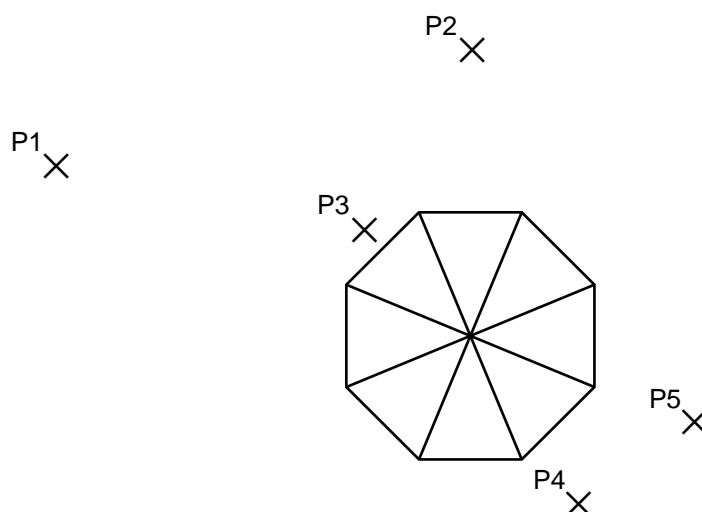


Figura 2



En el siguiente dibujo se muestra la vista del tejado de la torre desde arriba. Se han señalado cinco posiciones en el dibujo. Cada una de ellas está marcada con una cruz (×) y se han denominado de P1 a P5.

Desde cada una de estas posiciones, una persona que mirase la torre sería capaz de ver un número determinado de las caras del tejado de la torre.



En la tabla siguiente, rodea con un círculo el número de caras que se verían desde cada una de estas posiciones.

Posición	Número de caras que se verían desde esa posición (rodea con un círculo el número correcto)				
P1	1	2	3	4	más de 4
P2	1	2	3	4	más de 4
P3	1	2	3	4	más de 4
P4	1	2	3	4	más de 4
P5	1	2	3	4	más de 4