


CUBOS

En esta fotografía puedes ver seis dados, etiquetados desde (a) hasta (f). Hay una regla que es válida para todos los dados:

En todo dado, la suma de los puntos de cada dos caras opuestas es siete.



Pregunta 1

1 0 9

Escribe en cada casilla de la tabla siguiente el número de puntos de la cara inferior del dado correspondiente al de la foto.

(a)	(b)	(c)
(d)	(e)	(f)

CUBOS: RESPUESTAS Y CRITERIOS DE CORRECCIÓN

Pregunta 1

109







Escribe en cada casilla de la tabla siguiente el número de puntos de la cara inferior del dado correspondiente al de la foto.

(a)	(b)	(c)
(d)	(c)	(f)

CRITERIOS DE CORRECCIÓN

Máxima puntuación:

Código 1: Fila superior (1 5 4) Fila inferior (2 6 5). También es aceptable la respuesta mostrando las caras de los dados.

1	5	4			
2	6	5			

Sin puntuación:

Código 0: Otras respuestas.

Código 9: Sin respuesta.

CARACTERÍSTICAS DE LA PREGUNTA

Idea principal: Espacio y forma

Competencia matemática: Nivel 1 (Reproducción, definiciones y cálculos)

Situación: Laboral

Tipo de respuesta: Respuesta cerrada

Dificultad: 478 (nivel 2)

Porcentaje de aciertos:

- OCDE:..... 69,0%
- España:..... 72,5%