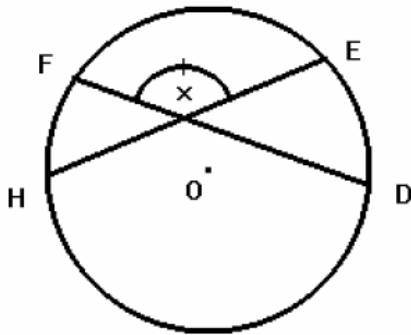


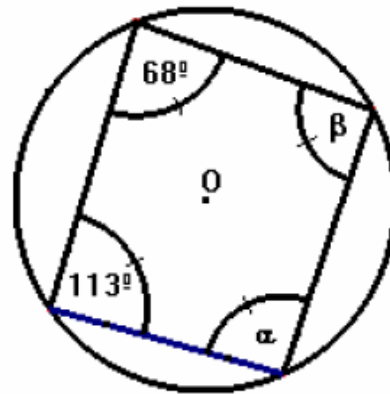


Nombre _____

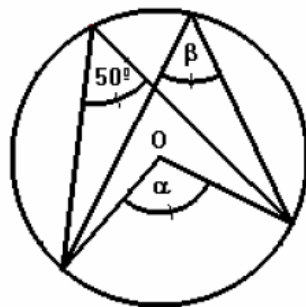
1. En la figura, arco $DE = 39^\circ$, arco $FH = 45^\circ$, luego ángulo $x =$



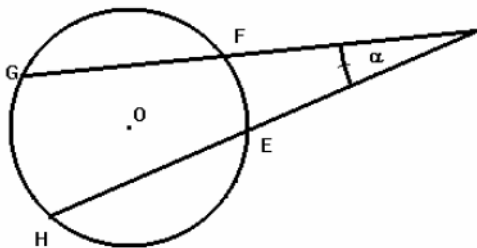
2. Según la figura, ángulo $\alpha = ?$ y ángulo $\beta = ?$



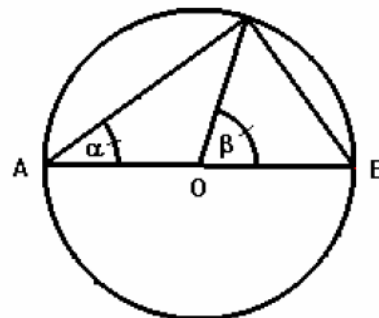
3. En la figura el valor de los ángulos α, β son respectivamente:



4. En la figura, arco $GH=146^\circ$; arco $EF=31^\circ$, entonces ángulo $\alpha = ?$



5. En la figura, AB es diámetro, si ángulo $\alpha = 23^\circ$, entonces ángulo $\beta = ?$



Si arco $AB = 130$ y arco $CD = 60$. ¿Cuánto mide el ángulo α ?

