

- Matemàtiques aplicades a les ciències socials
  - 1r Batxillerat Humanitats i Ciències Socials
    - Matemàtiques
  - 2n Batxillerat Científic i Tecnològic
    - Mates-PAU
  - 2n Batxillerat Científic i Tecnològic
- Matemàtiques aplicades a les ciències socials
  - 2n Batxillerat Humanitats i CCSS
    - eduCAT 1x1
    - ESO
  - Setmana de la Ciència
    - Concursos
  - Matemàtiques
    - Concursos
- Creació d'un curs a l'aula virtual
  - Cursos de formació
    - Seminaris TAC
  - Cursos de formació
- Fora de classe
  - Ciència divertida
  - Concursos
  - Bloc d'Audiovisuals
  - ... i més ...
- Contacta

AV ► 2BATMCS ► Qüestionaris ► Qüestionari 2 ► Intent 1

Actualitza Qüestionari

[Informació](#)

[Resultats](#)


[Previsualització](#)

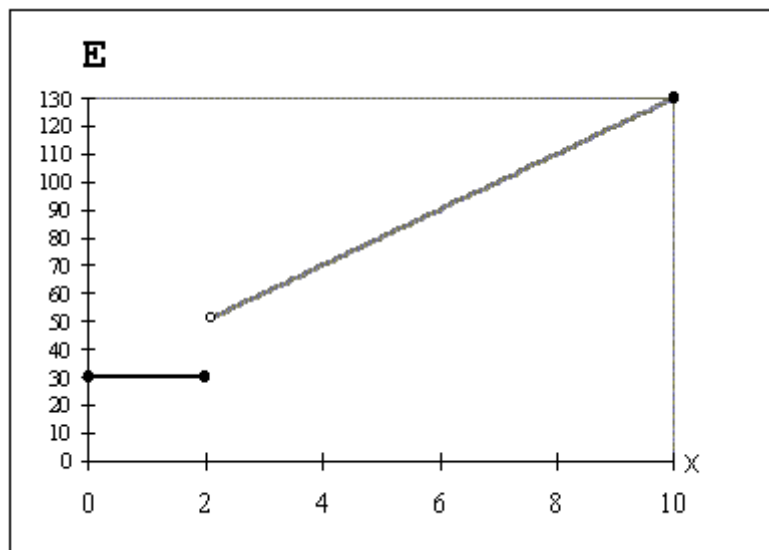
[Edita](#)

## Previsualitza Qüestionari 2

Comença de nou

Nota: aquest qüestionari no està disponible actualment per als vostres estudiants

**1**  Observa la gràfica següent i indica quina de les següents afirmacions són correctes:  
Punts: 1



Trieu

almenys

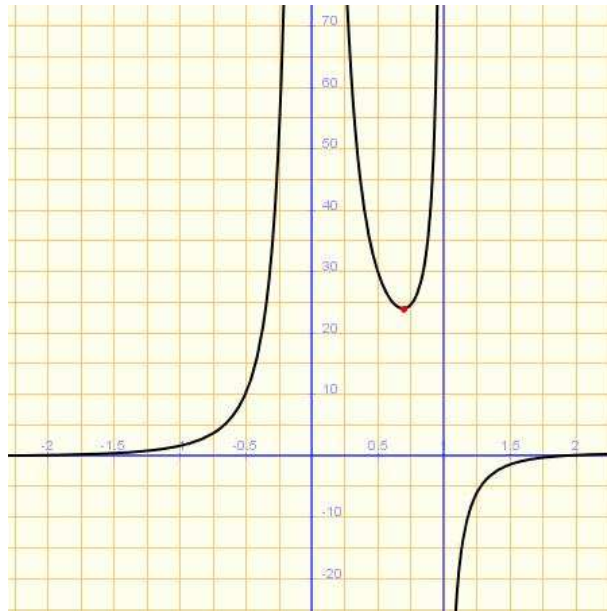
una

resposta

- a. El límit a  $x = 0$  existeix
- b. El límit quan  $x \rightarrow 10$  no existeix
- c. Existeix el límit de la funció quan  $x \rightarrow 4$
- d. No existeix el límit quan  $x \rightarrow 2$

**2** 🗨️ Observa la gràfica següent i indica quina de les següents afirmacions són correctes:

Punts: 1

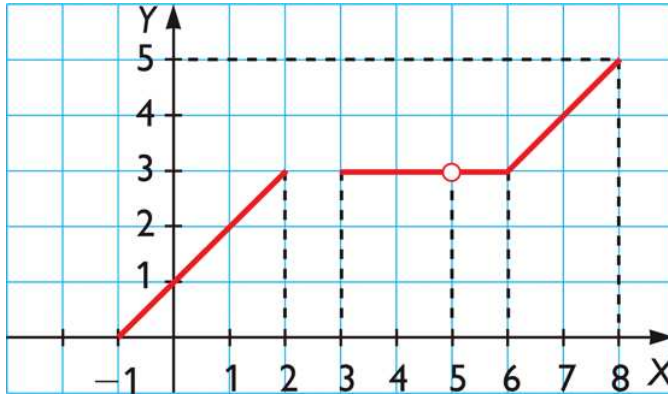


Trieu  
almenys  
una  
resposta

- a. Existeixen tant el límit quan  $x \rightarrow 0$  com quan  $x \rightarrow 1$
- b. El límit quan  $x \rightarrow 0$  existeix
- c. El límit quan  $x \rightarrow 1$  no existeix
- d. El límit a  $x = 0$  no existeix perquè és infinit


**3** 🗑️ Observa la gràfica següent i indica quina de les següents afirmacions són correctes:

Punts: 1



Trieu  
almenys  
una  
resposta

- a. Existeix el límit quan  $x \rightarrow 5$
- b. Existeix el límit quan  $x \rightarrow -1$

**4**  Si  $\lim_{x \rightarrow 2} f(x) = 3$ , quin és el valor de  $\lim_{x \rightarrow 2^+} f(x)$ ?

Punts: 1

Resposta:

**5**  Si  $\lim_{x \rightarrow 3^-} f(x) = -\infty$ , llavors  $\lim_{x \rightarrow 3^+} f(x)$   .

Punts: 1

Desa sense enviar

Envia i acaba



 [Documentació de Moodle per a aquesta pàgina](#)

Heu entrat com [Agustí Estévez Andreu \(Sortida\)](#)