

1.01 OS NÚMEROS ENTEIROS

01> Escribe en cada casa o signo e número correspondente:

- a) Danme dez euros de paga.....
- b) Subo oito pisos no ascensor.....
- c) Estou no segundo soto.....
- d) Non me queda nada.....
- e) O submarino está a 100metros baixo o nivel do mar.....

02> Calcula:

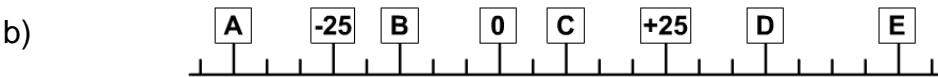
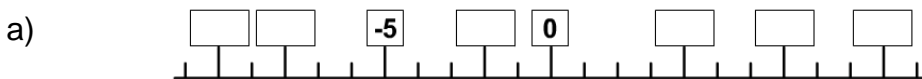
a) $|+6| =$ b) $|-2| =$ c) $|-18| =$ d) $|0| =$

03> Calcula:

a) $op(-3) =$ b) $op(+23) =$ c) $op(-12) =$ d) $op(0) =$

04> O oposto dun número é 4. Cal é ese número? _____

05> Escribe en cada casa o número que corresponde:

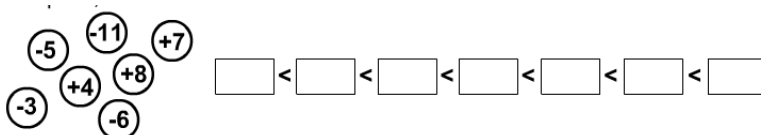


A = B = C =
 D = E =

06> Cantos números enteiros están comprendidos entre -4 e 3?. Escríbeos.

07> Cantos números enteiros están comprendidos entre -8 e -3?. Escríbeos

08> Completa ordenando de menor a maior



09> Escribe dous números enteiros maiores que +4 _____

10> Escribe dous números enteiros menores que -2 _____

11> Escribe dous números enteiros menores que +4 e maiores ca -2 _____